

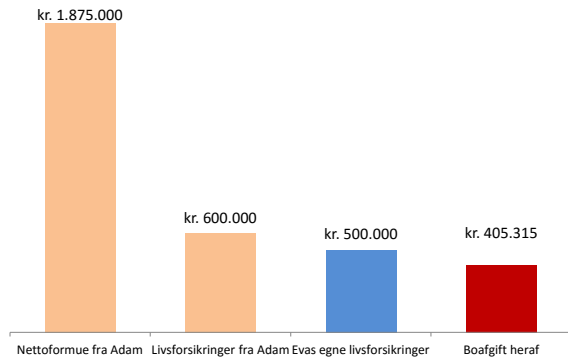
## GRAF 2,2 m særbørn Når den sidste dør

### GRAF 2, FORDELING AF LÆNGSTLEVENDES FORMUE FORMUEFÆLLESSKAB

Denne graf viser HVAD DER ER TIL FORDELING, NÅR LÆNGSTLEVENDE DØR

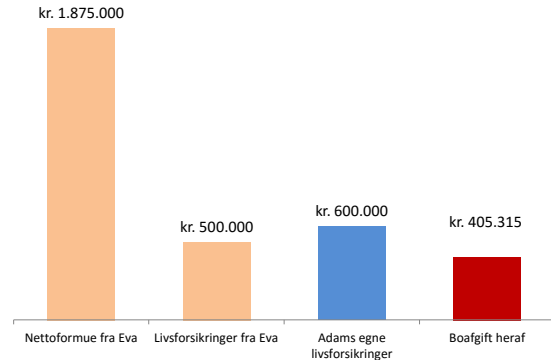
Adam og Eva har 2 fællesbørn. Eva har 1 særbarn. Adam har 3 særbørn.

#### Når Eva engang dør som den sidste vil hun efterlade sig



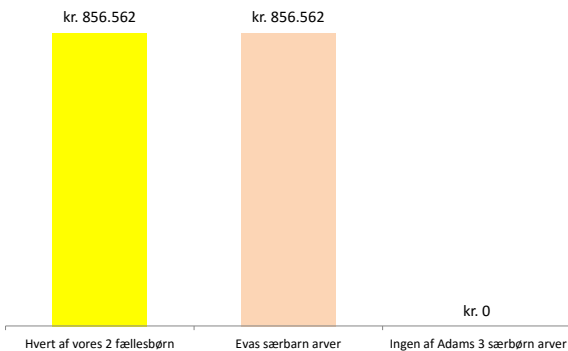
Eva har efter Adams død overtaget 1.875.000 kr. - se graf ovenfor.  
Eva fik forsikringssummer udbetalt med anslået 600.000 kr.  
Eva har selv forsikringer, der udbetales med anslået 500.000 kr. til hendes børn.  
Eva havde 1 særbarn og hun og Adam havde 2 fællesbørn.  
Adams 3 særbørn arver kun Eva, hvis det bestemmes i et testamente.

#### Når Adam engang dør som den sidste vil han efterlade sig

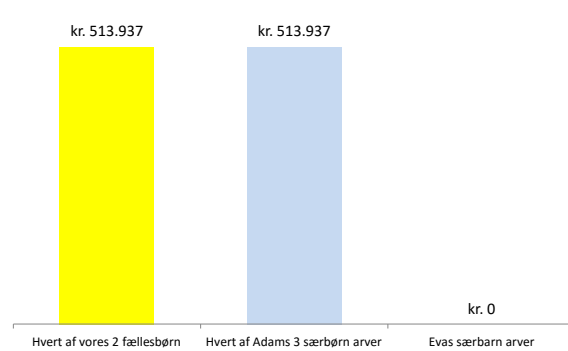


Adam har efter Evas død overtaget 1.875.000 kr. - se graf ovenfor.  
Adam fik forsikringssummer udbetalt med anslået 500.000 kr.  
Adam har selv forsikringer, der udbetales med anslået 600.000 kr. til hans børn.  
Adam havde 3 særbørn og han og Eva havde 2 fællesbørn.  
Evas særbarn arver kun Adam, hvis det bestemmes i et testamente.

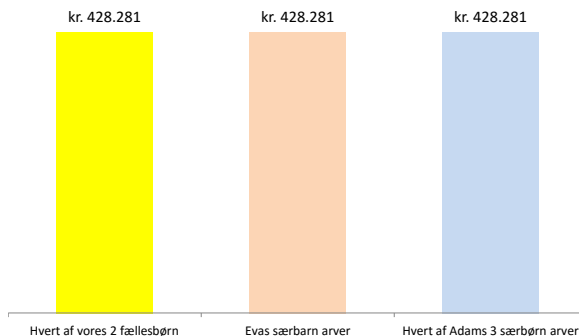
#### Uden testamente bliver fordelingen således



#### Uden testamente bliver fordelingen således

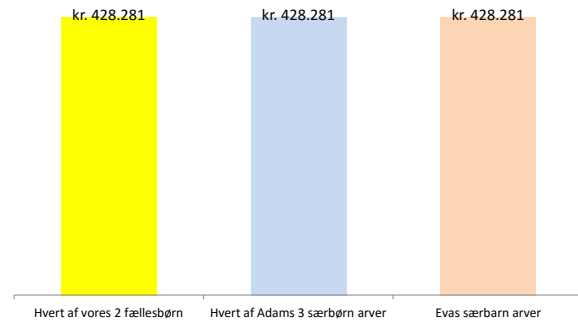


#### MED testamente KAN det blive således



Ligedeling kan opnås ved, at der forlods testamenteres 25.000 kr. til Evas særbarn, medens resten deles lige

#### MED testamente KAN det blive således



Ligedeling kan opnås ved, at der forlods testamenteres 41.667 kr. til hvert af Adams 3 særbørn, medens resten deles lige

Ingen må benytte disse grafer mm uden min tilladelse.

Tak til Niels Flindt for uvurderlig hjælp med udarbejdelsen